

Eindtoets voor ouders 2011

Eindtoets Basisonderwijs
Groep 8

Cito heeft dit opgavenboekje gemaakt om ouders te informeren over de inhoud van de Eindtoets Basisonderwijs. De opgaven zijn eerder gepubliceerd in de Eindtoets Basisonderwijs 2010. De scholen zijn vrij om van dit boekje kopieën te maken.



zeker weten

Taal

Dolle dolfijn bedreigt zwemmers en vissers.

1 De Franse westkust wordt al weken geterroriseerd
2 door een agressieve dolfijn. Het beest bedreigt
3 zwemmers en gooit bootjes omver, waardoor
4 vissers in het water belanden.

5 De dolfijn, die door de Bretonse bevolking Jean
6 Floch wordt genoemd, dook in 2002 voor het
7 eerst op en was een graag geziene verschijning.

8 Maar afgelopen zomer werd hij ineens
9 gewelddadig, volgens experts doordat hij uit een
10 groep andere dolfijnen was verjaagd. "Het lijkt
11 wel een dolle hond", klaagt Henri Le Lay, de
12 voorzitter van de plaatselijke vissersbond, die
13 schat dat Jean Floch al voor bijna 2000 euro aan
14 schade heeft aangericht.

15 Aanvankelijk wilden de vissers dat Jean Floch zou
16 worden afgemaakt, maar nu wordt er aan een
17 plan gewerkt om het beschermde dier met behulp
18 van geluidsgolven op een veilige afstand van de
19 schepen te houden.

21 Steve Newman

Opgave 1

In welk deel van de tekst kun je lezen hoe de dolfijn zijn
agressie toont?

- A In: De ... dolfijn. (r. 1 en 2)
- B In: Het ... belanden. (r. 2 t/m 4)
- C In: Maar ... verjaagd. (r. 8 t/m 10)
- D In: "Het ... aangericht. (r. 10 t/m 14)

**De opgaven 2 en 3 bestaan uit vier zinnen. De vraag
is steeds:**

In welke zin is het dikgedrukte woord fout gespeld?

Opgave 2

- A De **zwerfkatten** miauwden de hele nacht.
- B Robbie Williams gaf vier **konsernten** in de Arena.
- C Voor de **zuivelfabriek** stond een rij vrachtauto's.
- D Wie is er **wereldkampioen** geworden in 2002?

Opgave 3

- A Daan **zend** het pakje morgen naar Marcia.
- B De baby **ontwikkelt** zich goed.
- C Deze rozen **bloeien** weken aan een stuk.
- D Wie heeft dat dwaze plan **verzonnen**?

In opgave 4 is de vraag:

Wat doet iemand ... ?

**Het gaat daarbij om de betekenis van het woord
dat dikgedrukt is.**

Opgave 4

Wat doet iemand **met ambitie**?

- A Die bedenkt smoezen om ergens onderuit te komen.
- B Die heeft zoveel praatjes dat het anderen irriteert.
- C Die krijgt de juiste papieren om te kunnen emigreren.
- D Die streeft ernaar om hogerop te komen.

**Opgave 5 hoort bij een tekst met fouten. Lees eerst de
tekst en maak daarna de opgave.**

Saskia is op vakantie in Spanje. Ze schrijft een e-mail
aan haar vriendin Dorine. Saskia moet haar mail nog
wel nakijken, want er zitten een paar foutjes in.

- 1 Hoi Dorine,
- 2 Hoe gaat het met je? Hier is het tamelijk saai. Het
- 3 regent de hele tijd, want we zijn nog nauwelijks
- 4 van de camping af geweest. De hele dag met je
- 5 ouders en broer in een caravan zitten, leuk is dat!

Opgave 5

Lees: *Het regent ... af geweest.* (r. 2 t/m 4)

Wat kan Saskia het best doen met: *want* (r. 3)?

- A Zo laten staan.
- B Vervangen door: dus
- C Vervangen door: maar
- D Vervangen door: of

Rekenen

Opgave 6



Hoeveel kilogram tomatenpuree zit in totaal in dit pak?

- | | |
|----------|-----------|
| A 7,5 kg | C 750 kg |
| B 75 kg | D 7500 kg |

Opgave 7



Vader strooit kunstmest op het gazon.

Op het pak staat:


6 kg, voldoende voor 250 m².

Het gazon is 375 m².

Hoeveel kilo kunstmest heeft vader nodig?

- | | |
|--------|---------|
| A 3 kg | C 9 kg |
| B 8 kg | D 10 kg |

Opgave 8



Bij de winkel kun je ook met spaarzegels betalen. Hoeveel euro is één spaarzegel waard?

- | | |
|----------|----------|
| A € 0,01 | C € 1,- |
| B € 0,10 | D € 10,- |

Opgave 9



Deze 2 lampen branden allebei 40 uur.

Hoeveel watt heeft lamp 1 na 40 uur branden meer verbruikt dan lamp 2?

- | | |
|-------------|-------------|
| A 1160 watt | C 1240 watt |
| B 1199 watt | D 2040 watt |

Opgave 10

Drie van de vijf kinderen uit groep 8 zitten op een sportclub.

Hoeveel procent is dat?

- | | |
|---------------------|---------------------|
| A $\frac{3}{5}\%$ | C $37\frac{1}{2}\%$ |
| B $33\frac{1}{3}\%$ | D 60% |

Ga door op de volgende bladzijde

Studievaardigheden

T-Rex had superogen



De Amerikaanse wetenschapper Kent A. Stevens heeft ontdekt dat de grootste rover onder de dinosauriërs, de Tyrannosaurus Rex, nog specialer is dan we al dachten. Het beest had namelijk enorm goede ogen, beter dan een mens of een havik. De onderzoeker weet dit omdat hij modellen heeft gemaakt van de schedel van een T-Rex.

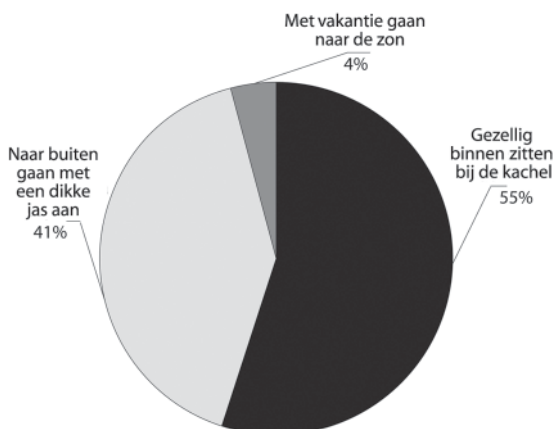
Opgave 11

Bestudeer bovenstaande tekst.
Over welke vraag gaat het stukje vooral?

- A Waar komt de wetenschapper Kent A. Stevens vandaan?
- B Welke belangrijke ontdekking heeft Kent A. Stevens gedaan?
- C Wie is de grootste rover onder de dinosauriërs?
- D Wie kan er verder kijken, een mens of een havik?

Opgave 12

Lezers van het blad 'De Winnaar' gaven antwoord op een vraag. Hieronder zie je het resultaat.
Welke vraag moesten de lezers beantwoorden?



- A Wanneer doet u de open haard aan?
- B Wat doet u als het buiten koud is?
- C Wat is uw favoriete vakantie?
- D Welke kleding draagt u 's middags?

Opgave 13

Desa is met haar ouders in Indonesië. Ze schrijft een rijtje Indonesische woorden op.
Waar staan de woorden in alfabetische volgorde?

- A menahan - menamani - menambang
- B menahan - menambang - menamani
- C menamani - menambang - menahan
- D menamani - menahan - menambang

Opgave 14

De ouders van Niels hebben een tent.
Ze kamperen elk jaar een paar weken op camping Bosrand.
Bestudeer de tarieven van de kampeerplaatsen hieronder.

Weektarieven staanplaatsen camping Bosrand

grote staanplaats	weektarief 2004	weektarief 2005	weektarief 2006	weektarief 2007
	in euro's	in euro's	in euro's	in euro's
40 m ²	40	60	75	120
60 m ²	50	75	100	140
80 m ²	60	80	110	160
100 m ²	75	150	165	180

Voor welke staanplaats is het weektarief in 2006 precies verdubbeld vergeleken met 2004?

Voor staanplaatsen van:

- A 40 m²
- B 60 m²
- C 80 m²
- D 100 m²

Rivieren in Noord-China



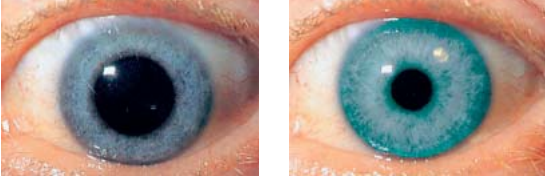
Opgave 15

In welk deel van China stroomt de Songhua?

- A in het noordoostelijke deel
- B in het noordwestelijke deel
- C in het zuidoostelijke deel
- D in het zuidwestelijke deel

Wereldoriëntatie

Opgave 16 Pupillen



oog van Koen

oog van Pauline

De pupil in het oog van Koen ziet er anders uit dan die in het oog van Pauline.

Waarmee heeft dat verschil te maken?

- A Koen is een jongen en Pauline is een meisje.
- B Koen kijkt door een leesbril en Pauline niet.
- C Koen kijkt in het donker en Pauline in het licht.
- D Koen kijkt naar iets dat dichtbij is en Pauline kijkt in de verte.

Opgave 17 Huisspitsmuis



Tussen 1967 en 1982 werd in de Achterhoek onderzocht welke dieren in de herfst door kerkuilen gegeten werden. De kerkuil bleek vooral veldmuizen te eten. Uit nieuw onderzoek in de herfst van 2001 bleek dat de huisspitsmuis het belangrijkste voedsel was geworden van kerkuilen.

Op welke manier zijn de onderzoekers dit te weten gekomen?

- A door 's avonds en 's nachts met een verrekijker de kerkuilen in de gaten te houden
- B door de inhoud van de braakballen van de kerkuilen te bekijken
- C door in de herfst het aantal huisspitsmuizen te tellen
- D door te onderzoeken wat huisspitsmuizen eten

Opgave 18 Stad aan het water



Welke stad en welk water zie je?

- A Amersfoort aan de Barneveldse Beek
- B Nijmegen aan de rivier de Waal
- C Enkhuzen aan het IJsselmeer
- D Den Haag aan de Noordzee

Opgave 19
Uit de TV-gids

- 22.34 Sesjun**
Serie muziekprogramma's;
afl.: 'The Texas Guitar
Singers'
- 23.12 Socutera**
- 23.55 NOS-Studio Sport**
- ca. 23.30 NOS-Journaal**
- 1.55-6.30 WK Allround schaatsen;**
rechtstreekse beelden van
de WK allround schaatsen
in Nagano Japan.

Waarom was de uitzending van de wereldkampioenschappen schaatsen 's nachts?

- A Er is overdag geen tijd meer vrij op de televisie om de schaatswedstrijd uit te zenden.
- B Het is in Japan al dag als het in Nederland nog nacht is.
- C Het is in Japan alleen 's nachts koud genoeg om te kunnen schaatsen.
- D In Japan worden belangrijke sportwedstrijden altijd 's nachts uitgezonden, omdat de meeste Japanners pas laat van hun werk thuiskomen.

Opgave 20
Oude gebouwen



1



2



3



4

In veel steden vind je gebouwen uit de late middeleeuwen van 1200-1500 (tijd van steden en staten).

Welke gebouwen zijn in die tijd gebouwd?

- A 1 en 3
- B 1 en 4
- C 2 en 3
- D 2 en 4

Einde van deze toets

Primair onderwijs
Cito Volgsysteem (LOVS)

Eindtoets voor ouders
Eindtoets Basisonderwijs
Groep 8

Lijst van goede antwoorden

1 B	11 B
2 B	12 B
3 A	13 A
4 D	14 B
5 B	15 A
6 A	16 C
7 C	17 B
8 B	18 B
9 A	19 B
10 D	20 A

Cito

Amsterdamseweg 13
Postbus 1034
6801 MG Arnhem
T (026) 352 11 11
F (026) 352 13 56
www.cito.nl

Klantenservice

T (026) 352 11 11
F (026) 352 11 35
klantenservice@cito.nl

Fotografie: Ron Steemers

